

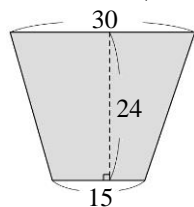
第 29 次 2021-6-7 (一) → 的題目

1. 蛋糕師傅做了 8 個相同的蛋糕，共用掉了 17.92 公斤的麵粉，製作一個這樣的蛋糕要用掉多少公斤的麵粉？
2. 一條長 420 公尺的道路，一邊有 15 盞路燈(頭尾都沒有)，每兩盞路燈之間的間隔都相等，每兩盞路燈之間的間隔是多少公尺？分別用分數和小數記下來。
3.  $x + 315 = 780$
4. 一瓶牛奶  $y$  毫升，每 250 毫升裝一杯，剛好可以裝成 10 杯。這瓶牛奶有多少毫升？依題意列出等式，再算算看。
5. 下表是和康國小五年級數學段考及格的人數統計表。

人數 \ 班級	甲	乙	丙	丁
全班人數(人)	33	32	35	36
及格人數(人)	22	24	28	30

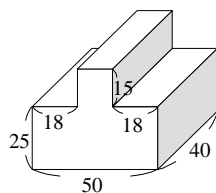
算算看，哪一班數學段考及格的比率最高？

6. 亮亮工廠舉辦抽獎，中獎率是 15%，共 200 人參加，中獎的有多少人？
7. 香甜葡萄園今天採收了 3.22 公噸的葡萄，今天採收的葡萄比昨天多 1060 公斤，昨天採收的葡萄重多少公噸？
8. 下面梯形的面積是多少平方公尺？也可以說是多少公畝？



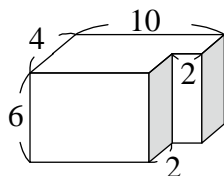
(單位：公尺)

- 9.(36) 下面形體的表面積是多少平方公分？



(單位：公分)

- 10.(37) 下面形體的表面積是多少平方公尺？



(單位：公尺)